

Kellonaikoja pienille koululaisille

Matematiikan, ajan ja kellon tehtäviä ala-asteikäisille

1 minuutti on 60 sekuntia. Yhdistä ajat niin, että ne ovat yhteensä minuutin pituisia.


15 sekuntia *	* 50 sekuntia
20 sekuntia *	* 30 sekuntia
55 sekuntia *	* 40 sekuntia
10 sekuntia *	* 45 sekuntia
30 sekuntia *	* 5 sekuntia

1 tunti on 60 minuuttia. Yhdistä ajat niin, että ne ovat yhteensä tunnin pituisia.


59 minuuttia *	* 30 minuuttia
20 minuuttia *	* 1 minuutti
45 minuuttia *	* 55 minuuttia
30 minuuttia *	* 40 minuuttia
5 minuuttia *	* 15 minuuttia

Yhdessä vuorokaudessa on 24 tuntia. Yhdistä ajat niin, että tunnit ovat yhteensä vuorokauden pituiset.


14 tuntia *	* 23 tuntia
20 tuntia *	* 0 tuntia
18 tuntia *	* 10 tuntia
1 tunti *	* 6 tuntia
24 tuntia *	* 4 tuntia




Piirrä kellon osoittimet osoittamaan tämän hetkistä aikaa.




Piirrä kellon osoittimet osoittamaan sitä aikaa, paljonko kello oli kun heräsit aamulla.



Paljonko tämä kello on?




Paljonko on tämä kello?




Piirrä osoittimet osoittamaan päivän mukavinta kellonaikaa.

*Uupumatta kulkee, eteenpäin käy. Vaan ei paikaltaan liik-
kuvan näy. Mikä se on?*

Vieressä näet televisiokanavan ohjelmatiedot.



Mikä ohjelma alkaa kun kello on näin paljon?



Milloin saat seurata ruohikon elämää?

Piirrä osoittimet kelloon.

- 13.00 Pelle Paavalin satutunti
- 14.00 Ruohikon elämää
- 14.45 Kaislamaton salaisuus
- 15.30 Taikamatkalla Intiassa
- 16.00 Pienen koppakuoriansen seikkailut
- 16.25 Sudenpennun leikkihetki
- 17.05 Taikurin uudet kujeet
- 17.45 Satumetsän pieni satupolku
- 18.00 Maailman ympäri polkupyörällä
- 18.45 Ketunpoikien jalkapallo-ottelu Takametsän Toivot - Satumetsän Sankarit (mikäli ottelu menee jatkoajalle, jatkamme lähetystä huomonaamulla)

Milloin ohjelmat päättyvät?

Ruohikon elämää päättyy kello _____

Taikamatkalla Intiassa päättyy kello _____


Maailman ympäri polkupyörällä päättyy kello _____

Kuinka kauan ohjelmat kestävät?


Pelle Paavalin satutunti kestää _____ minuuttia

Kaislamaton salaisuus kestää _____ minuuttia

Pienen koppakuoriaisen seikkailut kestävät _____ minuuttia



Piirrä kellon osoittimet osoittamaan kellonaikaa 18.05.



Piirrä tämän kellon osoittimet osoittamaan kellonaikaa 7.40.